

【学生注意】满分 120 分，考试时间 50 分钟。

学号：_____

姓名：_____

日期：____年____月____日

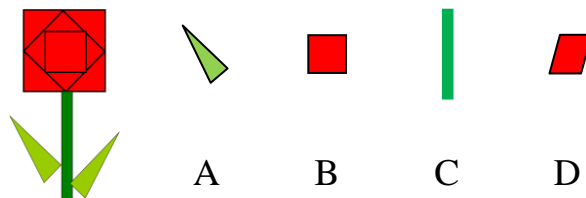
得分：_____

第七讲 期中测试

一、选择题（本题共有 5 小题，每题 6 分，共 30 分）

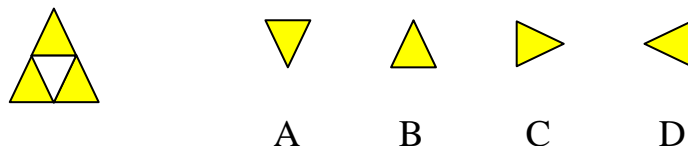
zǐ xì guānchá xià miàn zhè ge dà hóng huā méi yǒu yòng dào de tú xíng shì

1. 仔细观察下面这个大红花，没有用到的图形是（ ）。



báisè bù fēn de tú àn shì

2. 白色部分的图案是（ ）。



rú xià tú nǚ hái de zuǒ biān shì nǚ hái

3. 如下图，女孩C的左边是女孩（ ）。



bǐ jiào liǎng zǔ xiǎo péng yǒu

4. 比较A、B两组小朋友，（ ）组人数比较多。

zǔ rén shù bǐ jiào duō



A

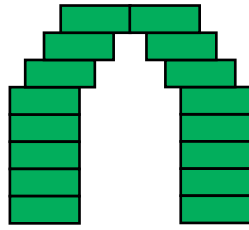


B

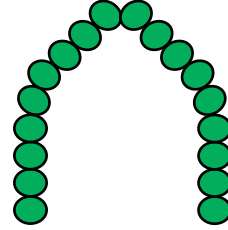
liǎnggèxiǎopéngyǒuyòngbùtóngxíngzhuàngdemùcáigàile gèxiǎoqiáodòng

qiáodòngzuìjiē

5. 两个小朋友用不同形状的木材盖了2个小桥洞，（ ）桥洞最结实。



A



B

二、填空题 I. (本题共有 3 小题，每空 6 分，共 48 分)

zài xiàmiàn huà shǐ de shù liàng bǐ de shù liàng shǎo 2 ge

6. 在○下面画□，使□的数量比○的数量少2个。

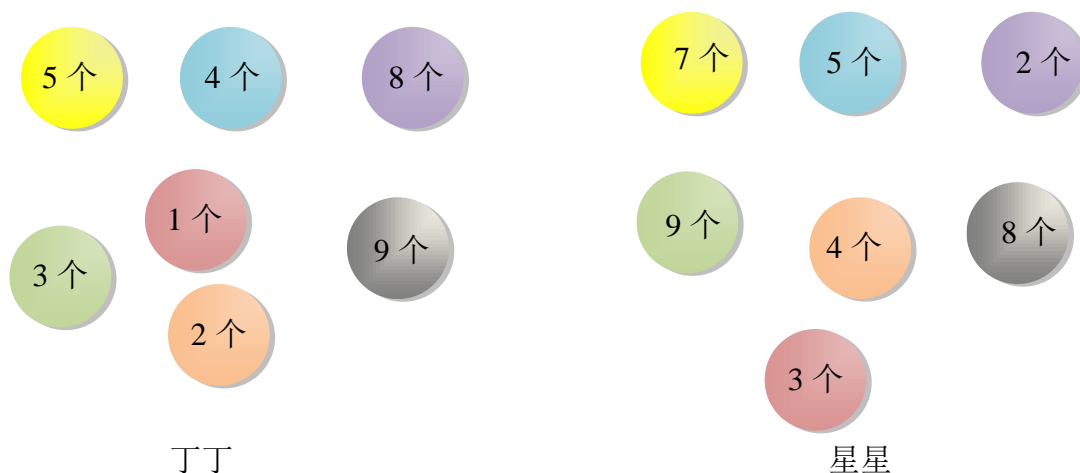
○ ○ ○ ○ ○ ○ ○ ○ ○ ○

guāncháxià tú bìngtiánkòng

7. 观察下图，并填空。



- (1) “2”的下面是^{dexiàmiànshì}_____，“K”的上面是^{deshàngmiànshì}_____。
- (2) “H”的左边是^{dezuǒbiānshì}_____，“Q”的右边是^{deyòubiānshì}_____。
- (3) “Y”在“Z”的（^{zài de shàng xià zuǒ yòu fāng}上 下 左 右）方。（在 ^{zàizhèngquède dá'àn xiàmiàn huà}正确 的答案 下面 画 “√”）
8. 丁丁和星星比赛收集龙珠，^{dīngdīng hé xīngxīng bǐsài shōují lóngzhū}_____收集的龙珠比较多，多^{shōují de lóngzhū bǐjiàoduō duō}_____个。^{gè}



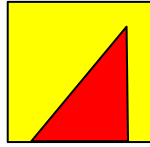
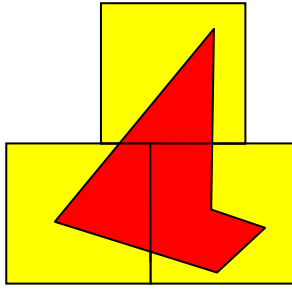
三、填空题 II.（本题共有 4 小题，每空 6 分，共 42 分）

9. 如图所示，小西在小一的（^{rú tú suǒshì xiǎo xī zài xiǎo yī de zuǒ yòu biān}左 右）边，小东在小一的（^{xiǎo dōng zài xiǎo yī de zuǒ yòu biān}左 右）边。（在 ^{zhèngquède dá'àn xiàmiàn huà}正确 的答案 下面 画 “√”）




yàoyòngyòu tú zhōngde tú piànpīnchūzuǒbiande tú xíng yòu tú zhōngduōyú de tú piànshì

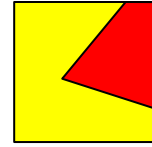
10. 要用右图中的图片拼出左边的图形，右图中多余的图片是_____。




A



B




C



D

guāncháxià tú bìngtiánkòng

11. 观察下图，并填空。



xiǎo deqiánmiànshì

xiǎo deyòubiànshì

(1) 小3的前面是_____，小8的右边是_____。

xiǎo zàixiǎo de zuǒ yòu qián hòu fāng zàizhèngquède dá'àn xiàmiàn huà

(2) 小5在小1的(左右前后)方。(在正确的答案下面画“√”)

xiǎo zàixiǎo de zuǒ yòu qián hòu fāng zàizhèngquède dá'àn xiàmiàn huà

(3) 小8在小7的(左右前后)方。(在正确的答案下面画“√”)